

Kategória B (5.-9. ročník ZŠ + 8G) Meno a priezvisko:

Škola:

Mesto:

## B1. Vyrieš túto prešmyčku (úloha za 1 bod)

Vyrieš túto prešmyčku. Prešmyčka je taká malá písmenková skryvačka. Predstav si, že slovo sú kocky lega – ty ich všetky

rozoberieš a z tých istých kociek postavíš niečo úplne iné. 🧱 ✨

Musíš použiť všetky písmenká.

**SINUS URODA**

Tu napíš svoju odpoveď

(je to jedno slovo)

## B2. Čo sem nepatrí? (úloha za 1 + 1 bod)

A, kováč

B, predavač

C, pekár

D, krajčír

E, kuchár

Tu vyznač svoju odpoveď

**A B C D E**

Napíš prečo?

## B3. Ktorý obrázok medzi ostatné nepatrí? (úloha za 2 body)

Tu vyznač svoju odpoveď

**A B C D E**

A



B



C



D



E

## B4. Ako bude pokračovať tento matematický rad? (úloha za 1 bod)

11 13 17 25 32 37 ?

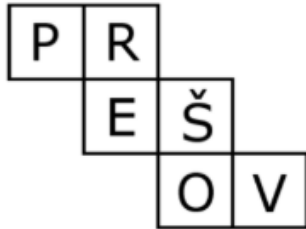
Tu napíš svoju odpoveď

Katégorie B (5.-9. ročník ZŠ + 8G) **Meno a priezvisko:**

**Škola:**

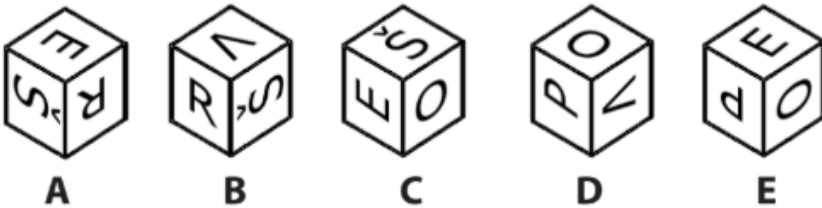
**Mesto:**

B5. Ktorá kocka sa nedá poskladať z tohto plášťa? (úloha za 3 body)



Tu vyznač svoju odpoveď

**A B C D E**



B6. A až F sú celé čísla od 1 do 9. Aké číslo patrí namiesto otáznika? (úloha za 2 body)

B	D	A	A	F	19
E	E	E	F	F	12
C	E	D	D	C	
B	D	A	A	E	?
13	18			17	

Tu napíš svoju odpoveď

B7. Ktorý obrázok najviac nepatrí medzi ostatné? (úloha za 1 bod)



Tu vyznač svoju odpoveď

**A B C D E**

B8. Čo sa ukrýva v tejto vete? (úloha za 1 bod)

Krásne zdobené zákusky obsahovali karamel a marcipán.

A. názov mesta    B. ručné náradie    C. zviera    D. školská pomôcka

Tu vyznač svoju odpoveď

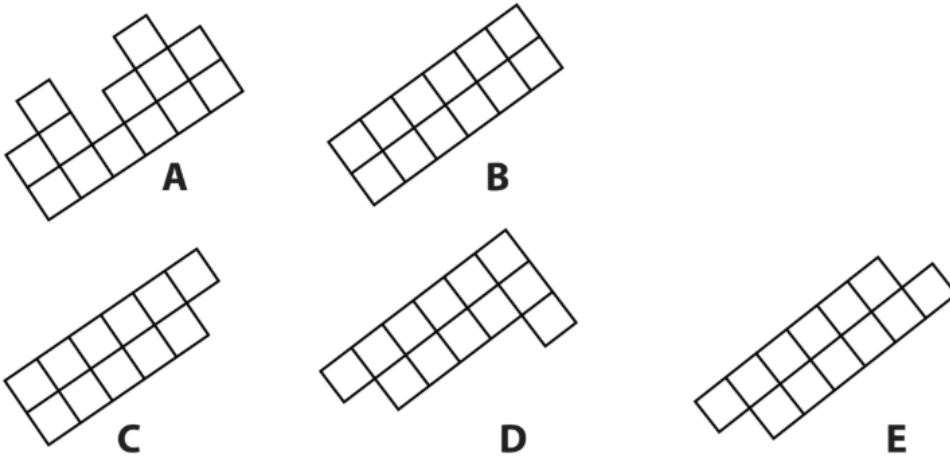
**A B C D**

Katégoria B (5.-9. ročník ZŠ + 8G) **Meno a priezvisko:**

**Škola:**

**Mesto:**

B9. Zo štyroch dielikov sa dá poskladať obdĺžnik. Útvary sa nebudú prekryvať a neostane ti nikde uprostred prázdne miesto. Ktorý je navyše? (**úloha za 3 body**)



Tu vyznač svoju odpoveď

**A B C D E**

B10. Vyber vhodné slovo, aby platil v oboch dvojiciach rovnaký vzťah: (**úloha za 2 body**)

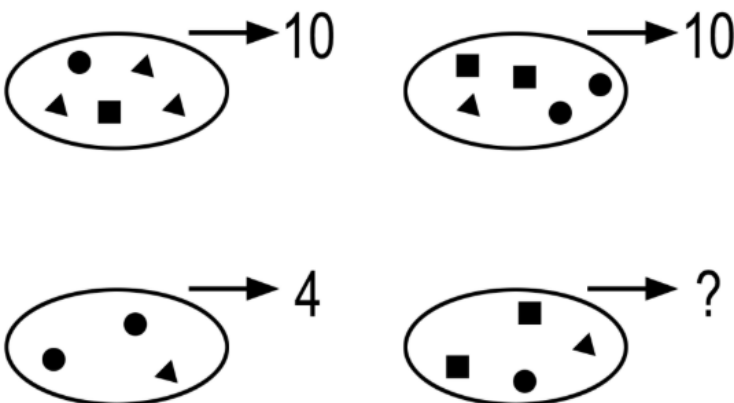
ZLATO : STRIEBRO = PRSTEŇ : ?

- A. UMENIE
- B. KLENOT
- C. DIAMANT
- D. NÁUŠNICA

Tu vyznač svoju odpoveď

**A B C D**

B11. Aké číslo nahradí otáznik? (**úloha za 2 body**)



Tu napíš svoju odpoveď

Kategória B (5.-9. ročník ZŠ + 8G) **Meno a priezvisko:**

**Škola:**

**Mesto:**

B12. V kine sedí Zuzana v jednom dlhom rade. Keď počíta sedadlá od ľavého kraja, sedí na 11. mieste. Keď ich počíta od pravého kraja, sedí na 14. mieste.

Koľko sedadiel je celkovo v tomto rade? (úloha za 1 bod)

Tu napíš svoju odpoveď

B13. Čo sa ukrýva v tejto vete? (úloha za 1 bod)

**V dnešnom futbalovom zápase Prievidza ťahala za kratší koniec, Žilina podľahla 0:1.**

A. povolanie    B. svetadiel    C. rodinný príslušník    D. jedlo

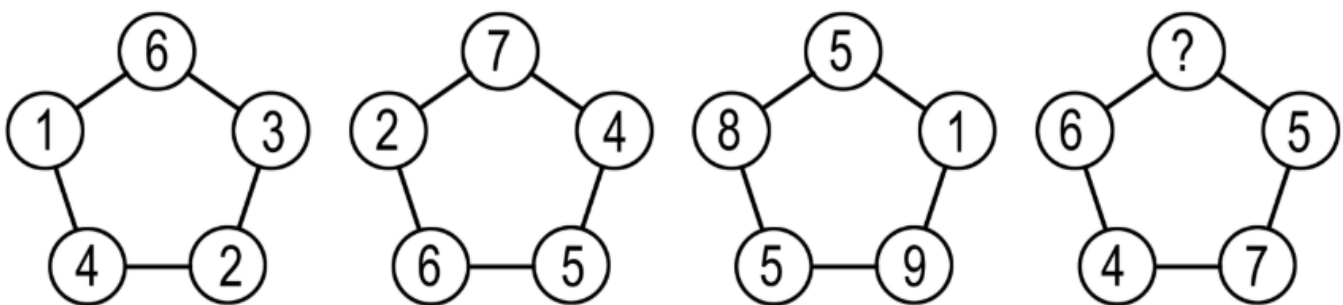
Tu vyznač svoju odpoveď

**A    B    C    D**

B14. Čísla vo všetkých obrazcoch sú v rovnakom matematickom vzťahu.

Aké číslo nahradí otáznik? (úloha za 2 bod)

Tu napíš svoju odpoveď



B15. Ktoré dva obrazce sú rovnaké? (úloha za 1 bod)



Tu vyznač svoju odpoveď

**A    B    C    D    E**